



Espace et géométrie

EG10. Identifier et construire des cercles.

Complète à l'aide du mot correct.

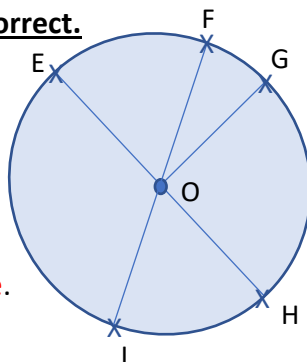
Le segment [OH] est un **rayon**.

Le segment [FO] est un **rayon**.

O est le **centre** du cercle.

Le segment [EH] est un **diamètre**.

O est le **milieu** du segment [EH].



Le segment [OG] est un **rayon**.

Le segment [FI] est un **diamètre**.

Le segment [OF] est un **rayon**.

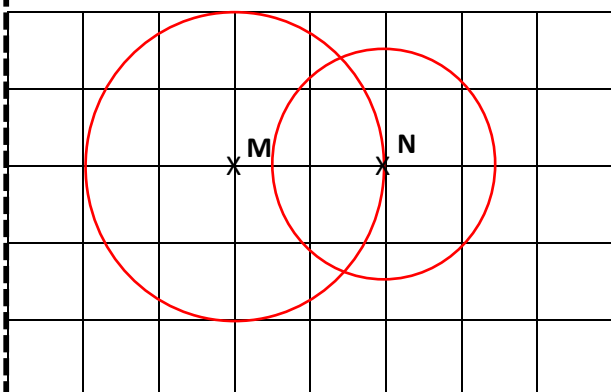
F est un **point** du cercle.

Ce qui se trouve à l'intérieur du cercle s'appelle un **disque**.

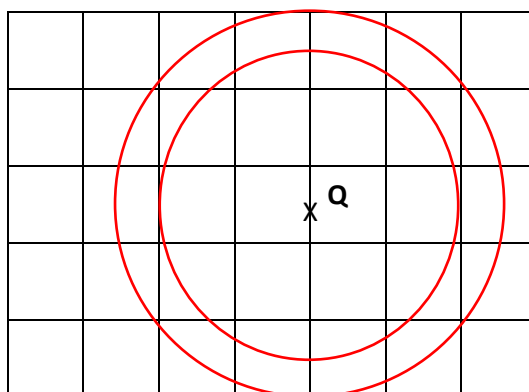
Bravo tu as réussi !

Ou revois ta leçon

Trace un cercle de centre M de 2 cm de rayon et un cercle de centre N de 1,5 cm de rayon.



Trace un cercle de centre Q de 2,5 cm de rayon et un cercle de centre Q de 2 cm de rayon.



Bravo tu as réussi !

Ou revois ta leçon

Retrouve la figure que chaque enfant a tracée.

Phil a aligné 3 cercles de rayons identiques.


C

Béa a aligné 3 cercles de rayons différents.


B

Maé a tracé 3 cercles concentriques.


A



A



B



C

Bravo tu as réussi !

Ou revois ta leçon

Ce document PDF gratuit à imprimer est issu de la page :

- [Evaluations par compétence Primaire 5 Mathématiques : Géométrie Cercle et disque - PDF à imprimer](#)

Le lien ci-dessous vous permet de télécharger cette évaluation avec un énoncé vierge

- [Identifier et construire des cercles - Examen Evaluation progressive : Primaire 5](#)

Les évaluations des catégories suivantes pourraient également vous intéresser :

- [Evaluations par compétence Primaire 5 Mathématiques : Géométrie Agrandissement, réduction - PDF à imprimer](#)
- [Evaluations par compétence Primaire 5 Mathématiques : Géométrie Droites parallèles - PDF à imprimer](#)
- [Evaluations par compétence Primaire 5 Mathématiques : Géométrie Droites perpendiculaires - PDF à imprimer](#)
- [Evaluations par compétence Primaire 5 Mathématiques : Géométrie Polygones - PDF à imprimer](#)
- [Evaluations par compétence Primaire 5 Mathématiques : Géométrie Se repérer, déplacer / plan, carte - PDF à imprimer](#)

Besoin d'approfondir en : Primaire 5 Mathématiques : Géométrie Cercle et disque

- [Leçons Primaire 5 Mathématiques : Géométrie Cercle et disque](#)
- [Exercices Primaire 5 Mathématiques : Géométrie Cercle et disque](#)
- [Evaluations Primaire 5 Mathématiques : Géométrie Cercle et disque](#)
- [Evaluations / QCM QUIZ Primaire 5 Mathématiques : Géométrie Cercle et disque](#)
- [Vidéos pédagogiques Primaire 5 Mathématiques : Géométrie Cercle et disque](#)