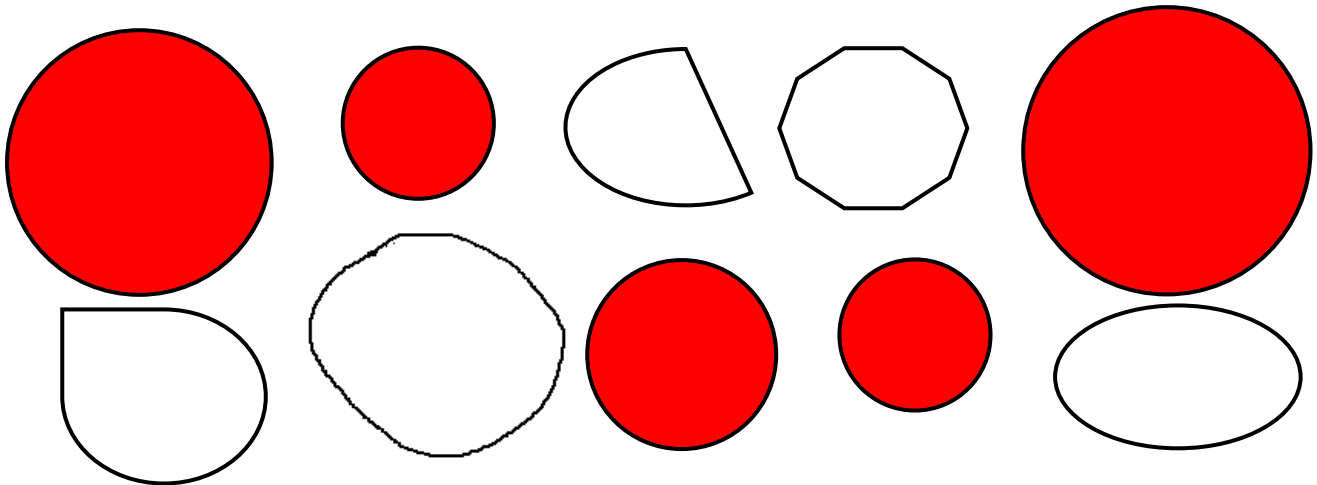
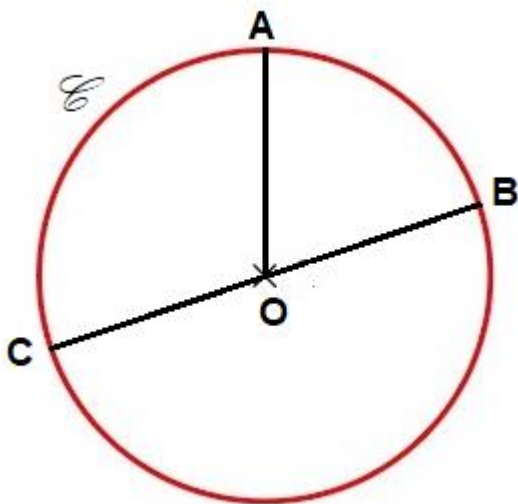



Identifier et décrire les cercles

1 Colorie les formes qui sont des cercles.



2 Complète le texte avec le vocabulaire du cercle.



La figure géométrique  est **un cercle** ;
O est **le centre** ; [OB] est **un rayon**
et [CB] est **un diamètre** .

3 Réponds aux questions en cochant VRAI OU FAUX.

	VRAI	FAUX
Le point qui se situe au milieu du cercle est le centre.	X	
Le rayon du cercle est égal à la moitié du diamètre du cercle.	X	
Dans un cercle il ne peut y avoir qu'un seul diamètre.		X
Un cercle est une ligne courbe qui est ouverte.		X
Le cercle est formé par une infinité de points.	X	

Ce document PDF gratuit à imprimer est issu de la page :

- [Evaluations Primaire 3 Mathématiques : Géométrie Cercle et disque - PDF à imprimer](#)

Le lien ci-dessous vous permet de télécharger cette évaluation avec un énoncé vierge

- [Evaluation et bilan avec le corrigé sur identifier et décrire les cercles : Primaire 3](#)

Découvrez d'autres évaluations en : **Primaire 3 Mathématiques : Géométrie Cercle et disque**

- [Evaluation et bilan avec le corrigé sur tracer des cercles : Primaire 3](#)
- [Tracer des cercles - Évaluation de géométrie : Primaire 3](#)
- [Identifier et connaître le vocabulaire relatif aux cercles - Évaluation de géométrie : Primaire 3](#)
- [Identifier et tracer des cercles - Examen Evaluation avec la correction : Primaire 3](#)
- [Identifier et décrire les cercles - Évaluation, bilan : Primaire 3](#)

Les évaluations des catégories suivantes pourraient également vous intéresser :

- [Evaluations Primaire 3 Mathématiques : Géométrie Côté, sommet, angle - PDF à imprimer](#)
- [Evaluations Primaire 3 Mathématiques : Géométrie Point, droite et segment - PDF à imprimer](#)
- [Evaluations Primaire 3 Mathématiques : Géométrie Polygones - PDF à imprimer](#)
- [Evaluations Primaire 3 Mathématiques : Géométrie Quadrilatères - PDF à imprimer](#)
- [Evaluations Primaire 3 Mathématiques : Géométrie Quadrillage / Plan - PDF à imprimer](#)

Besoin d'approfondir en : **Primaire 3 Mathématiques : Géométrie Cercle et disque**

- [Leçons Primaire 3 Mathématiques : Géométrie Cercle et disque](#)
- [Exercices Primaire 3 Mathématiques : Géométrie Cercle et disque](#)
- [Evaluations / compétences Primaire 3 Mathématiques : Géométrie Cercle et disque](#)
- [Evaluations / QCM QUIZ Primaire 3 Mathématiques : Géométrie Cercle et disque](#)
- [Vidéos pédagogiques Primaire 3 Mathématiques : Géométrie Cercle et disque](#)