

# Géométrie : Construire le symétrique d'une figure

## Evaluation

Correction

### Evaluation des compétences

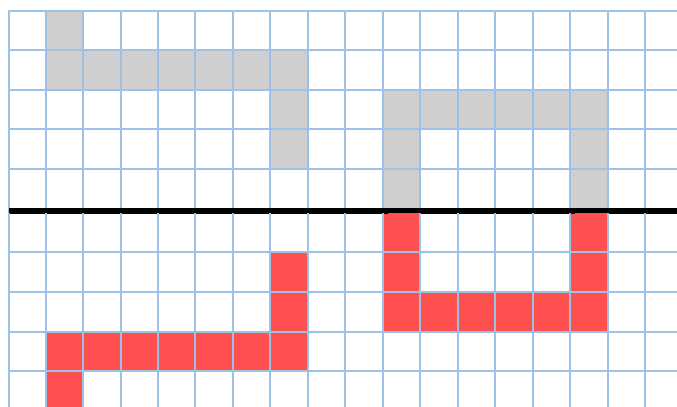
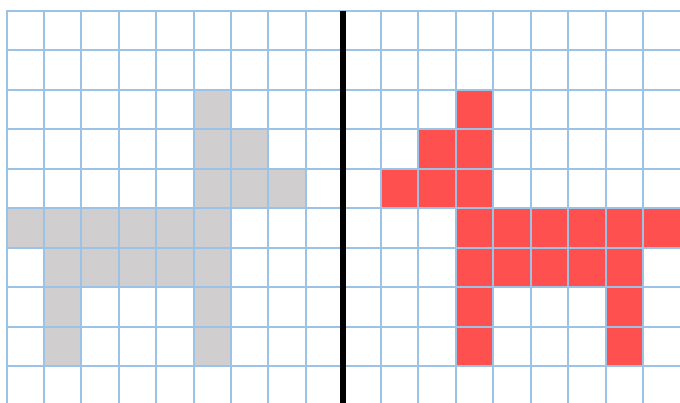
Tracer une figure symétrique par rapport à un axe avec l'aide d'un quadrillage.

A

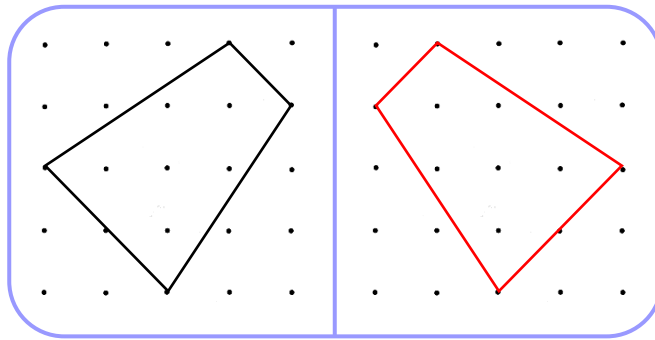
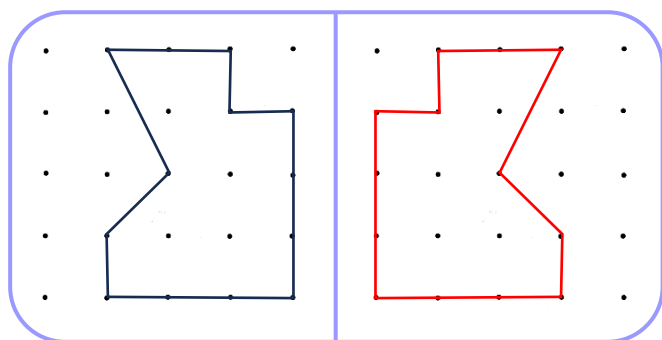
EA

NA

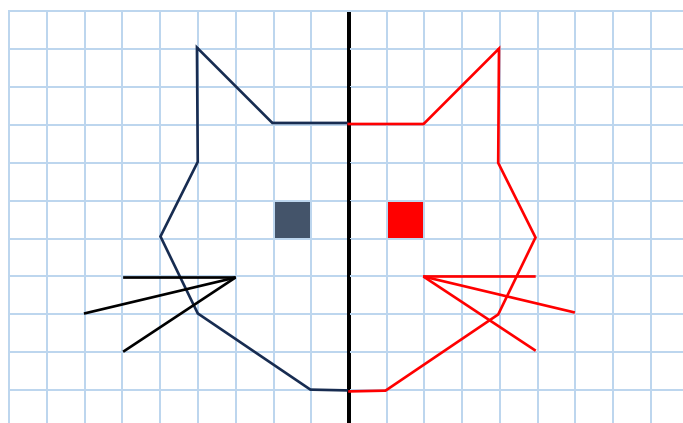
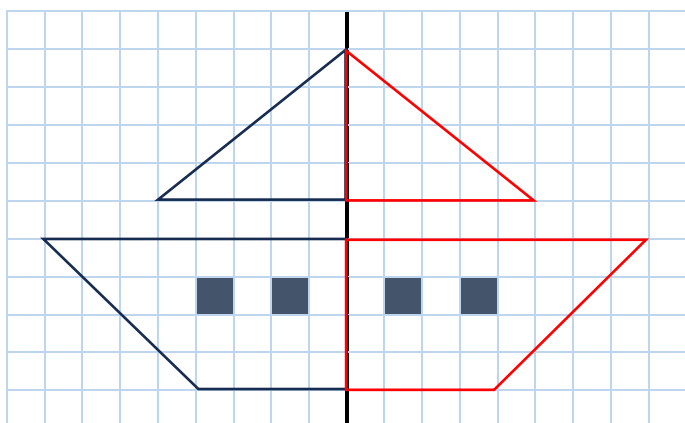
- 1 Colorie les cases pour obtenir la figure symétrique par rapport à l'axe noir.



- 2 Construis le symétrique de la figure à l'aide du papier pointé.



- 3 Complète les figures par symétrie axiale.



**Ce document PDF gratuit à imprimer est issu de la page :**

- [Evaluations Primaire 2 Mathématiques : Géométrie Symétrie axiale Construire le symétrique - PDF à imprimer](#)

**Le lien ci-dessous vous permet de télécharger cette évaluation avec un énoncé vierge**

- [Construire le symétrique d'une figure - Évaluation de géométrie : Primaire 2](#)

**Les évaluations des catégories suivantes pourraient également vous intéresser :**

- [Evaluations Primaire 2 Mathématiques : Géométrie Symétrie axiale Reconnaître des figures symétriques - PDF à imprimer](#)

**Besoin d'approfondir en : Primaire 2 Mathématiques : Géométrie Symétrie axiale Construire le symétrique**

- [Leçons Primaire 2 Mathématiques : Géométrie Symétrie axiale Construire le symétrique](#)
- [Exercices Primaire 2 Mathématiques : Géométrie Symétrie axiale Construire le symétrique](#)