

Géométrie : Repérer et tracer des droites, des segments et des points alignés

Evaluation

Correction

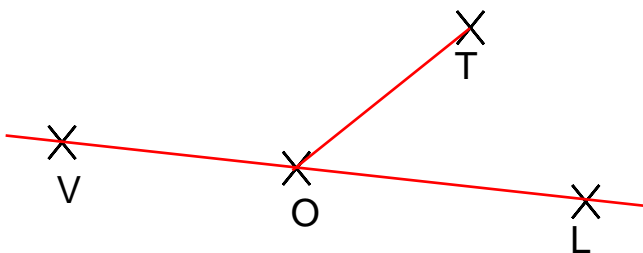
| Evaluation des compétences | A | EA | NA |
|---|---|----|----|
| Reconnaître et tracer une droite. | | | |
| Reconnaître et tracer un segment. | | | |
| Reconnaître et tracer le milieu d'un segment. | | | |

- 1 Repasse les droites en vert et les segments en bleu puis donne leur nom juste à côté.

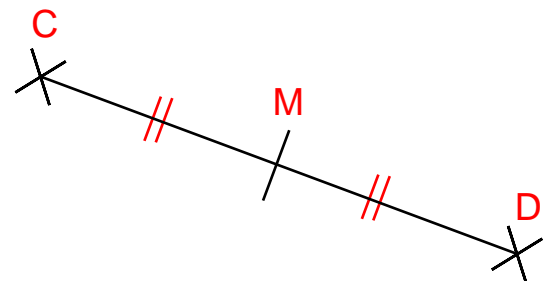
| | | | |
|--|------|--|------|
| | (PG) | | [HG] |
| | [TR] | | (f) |

- 2 Les points V, O et L sont alignés.

- Trace la droite (OL)
- Donne 2 autres façons de nommer la droite : **(VO) ou (OL)**
- Trace le segment [TO]



- 3 Le point M est le milieu du segment [CD]. Complète la figure.



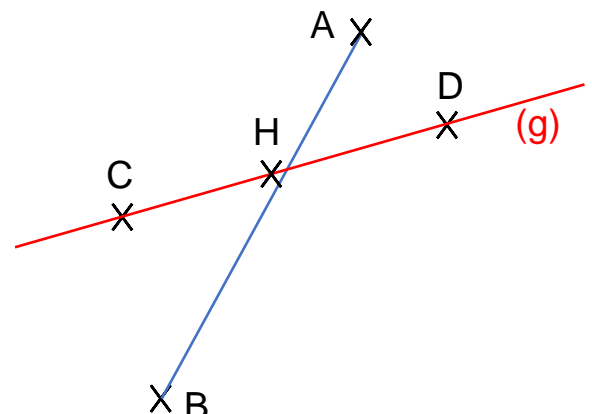
- 4 Trace en bleu le segment qui a pour extrémité A et B. Trace en rouge la droite (g) qui passe par les points C et D. Puis réponds aux questions.

Quel point est aligné avec les points C et D ?

C'est le point **H**.

Justifie ta réponse :

Le point **H** est aligné avec les points C et D car ils se trouvent sur la même droite : (g).



Ce document PDF gratuit à imprimer est issu de la page :

- [Evaluations Primaire 2 Mathématiques : Géométrie Point, droite et segment - PDF à imprimer](#)

Le lien ci-dessous vous permet de télécharger cette évaluation avec un énoncé vierge

- [Repérer et tracer des droites, des segments et des points alignés - Évaluation : Primaire 2](#)

Découvrez d'autres évaluations en : Primaire 2 Mathématiques : Géométrie Point, droite et segment

- [Evaluation avec le corrigé sur repérer et tracer des droites, des segments et des points alignés - Bilan à imprimer : Primaire 2](#)
- [Repérer et tracer des droites, des segments et des points alignés - Évaluation, bilan : Primaire 2](#)
- [Repérer et tracer des droites, des segments et des points alignés - Examen Evaluation avec la correction : Primaire 2](#)
- [Droites - Segments - Bilan à imprimer : Primaire 2](#)
- [Droites et segments - Examen Evaluation : Primaire 2](#)

Les évaluations des catégories suivantes pourraient également vous intéresser :

- [Evaluations Primaire 2 Mathématiques : Géométrie Cercle et disque - PDF à imprimer](#)
- [Evaluations Primaire 2 Mathématiques : Géométrie Côté, sommet, angle - PDF à imprimer](#)
- [Evaluations Primaire 2 Mathématiques : Géométrie Polygones - PDF à imprimer](#)
- [Evaluations Primaire 2 Mathématiques : Géométrie Quadrilatères - PDF à imprimer](#)
- [Evaluations Primaire 2 Mathématiques : Géométrie Quadrillage / Plan - PDF à imprimer](#)

Besoin d'approfondir en : Primaire 2 Mathématiques : Géométrie Point, droite et segment

- [Leçons Primaire 2 Mathématiques : Géométrie Point, droite et segment](#)
- [Exercices Primaire 2 Mathématiques : Géométrie Point, droite et segment](#)
- [Evaluations / QCM QUIZ Primaire 2 Mathématiques : Géométrie Point, droite et segment](#)
- [Vidéos pédagogiques Primaire 2 Mathématiques : Géométrie Point, droite et segment](#)
- [Séquence / Fiche de prep Primaire 2 Mathématiques : Géométrie Point, droite et segment](#)