



Calcul : Les pourcentages

Evaluation

Correction

Evaluation des compétences

Passer d'une fraction à un pourcentage, et inversement.

Calculer et appliquer un pourcentage.

Résoudre des problèmes liés aux pourcentages.

A EA NA

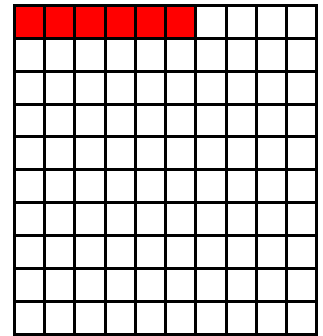



1 Donne le pourcentage ou la fraction qui correspond. Tu peux t'aider du carré.

$$\frac{2}{5} \text{ ou } \frac{4}{10} = 40 \%$$

$$\frac{1}{4} = 25 \%$$

$$\frac{7}{10} = 70 \%$$

$$\frac{6}{100} = 6 \%$$



2 Calcule le pourcentage demandé à l'aide du tableau.

a) Le pourcentage de 40 par rapport à 80.

	Partie	Total
Quantité	40	80
Pourcentage	$100 \div 2 = 50$	100

b) Le pourcentage de 100 par rapport à 400.

	Partie	Total
Quantité	100	400
Pourcentage	$100 \div 4 = 25$	100

c) 20% de 75.

	Partie	Total
Quantité	15	75
Pourcentage	20	100

$75 \times 20 \div 100 = 1500 \div 100 = 15$

d) 25% de 600.

	Partie	Total
Quantité	150	600
Pourcentage	25	100

$25 \times 600 \div 100 = 1500 \div 100 = 150$

3 Résous ces problèmes.

Dans l'école A, $\frac{3}{5}$ des élèves sont des filles ; dans l'école B elles représentent 47% et il y a 40 filles sur les 50 élèves de l'école C. Dans quelle école y a-t-il la plus grande proportion de filles ?

$$\frac{3}{5} = \frac{60}{100} = 60\% \text{ dans l'école A ; } 47\% \text{ dans l'école B ; } 80\% \text{ dans l'école C.}$$

C'est dans l'école C qu'il y a la plus grande proportion de filles.

	Filles	Total
Quantité	40	50
%	80	100

$\times 2$

Dans mes 300 chansons préférées, 15% sont de l'artiste A, 90 de l'artiste B, la moitié de l'artiste C et le reste de l'artiste D. De quel artiste ai-je le plus grand nombre de chansons ?

$$15 \times 300 \div 100 = 3 \times 15 = 45 \text{ chansons de A ; } 90 \text{ chansons de B ;}$$

$$300 \div 2 = 150 \text{ chansons de C ; } 300 - (45 + 90 + 150) = 300 - 285 = 15 \text{ chansons}$$

de D. $15 < 45 < 90 < 150$. J'ai le plus de chansons de l'artiste C.

	C	Total
Quantité	150	300
%	50	100

$\times 3$

Ce document PDF gratuit à imprimer est issu de la page :

- [Evaluations Primaire 5 Mathématiques : Gestion des données Proportionnalité Pourcentages - PDF à imprimer](#)

Le lien ci-dessous vous permet de télécharger cette évaluation avec un énoncé vierge

- [Les pourcentages - Évaluation de calcul : Primaire 5](#)

Découvrez d'autres évaluations en : Primaire 5 Mathématiques : Gestion des données Proportionnalité Pourcentages

- [Pourcentages et échelles - Bilan : Primaire 5](#)
- [Calcul de pourcentages - Examen Evaluation - Proportionnalité : Primaire 5](#)

Les évaluations des catégories suivantes pourraient également vous intéresser :

- [Evaluations Primaire 5 Mathématiques : Gestion des données Proportionnalité Échelles - PDF à imprimer](#)
- [Evaluations Primaire 5 Mathématiques : Gestion des données Proportionnalité Proportionnalité - PDF à imprimer](#)
- [Evaluations Primaire 5 Mathématiques : Gestion des données Proportionnalité Vitesses - PDF à imprimer](#)

Besoin d'approfondir en : Primaire 5 Mathématiques : Gestion des données Proportionnalité Pourcentages

- [Leçons Primaire 5 Mathématiques : Gestion des données Proportionnalité Pourcentages](#)
- [Exercices Primaire 5 Mathématiques : Gestion des données Proportionnalité Pourcentages](#)
- [Vidéos pédagogiques Primaire 5 Mathématiques : Gestion des données Proportionnalité Pourcentages](#)
- [Vidéos interactives Primaire 5 Mathématiques : Gestion des données Proportionnalité Pourcentages](#)
- [Séquence / Fiche de prep Primaire 5 Mathématiques : Gestion des données Proportionnalité Pourcentages](#)