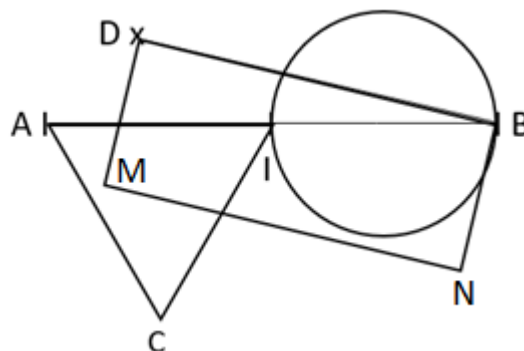




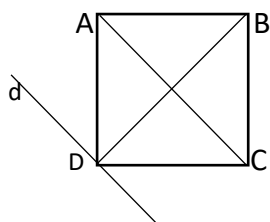
Rédiger un programme de construction

1 Complète le programme de construction de cette figure.

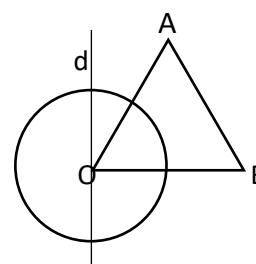
- 1- Trace $[AB]$ un segment de 6 cm
- 2- Place I milieu de $[AB]$
- 3- Place un point D tel que $D \notin [AB]$
- 4- Trace un rectangle $DBNM$ tel que :
 $BN = 2$ cm
- 5- Trace un triangle équilatéral AIC
- 6- Trace un cercle de diamètre IB



2 Rédige le programme de construction de chaque figure.



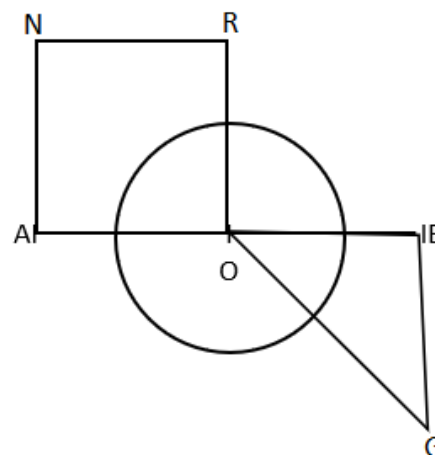
- 1- Trace un carré $ABCD$ de 2 cm de côté
- 2- Trace les deux diagonales de ce carré
- 3- Trace la droite $d \perp DB$ passant par D ou trace la droite $d \parallel AC$ passant par D



- 1- Trace un triangle équilatéral ABO de 2 cm de côté.
- 2- Trace un cercle de centre O et de rayon 1 cm.
- 3- Trace une droite $d \perp OB$ passant par O

3 Rédige le programme de construction de la figure ci-dessous. Les étapes 3 ; 4 et 5 peuvent être permutées.

- 1- Trace un segment $[AB]$ de 5 cm
- 2- Place O milieu de $[AB]$
- 3- Trace un carré $ROAN$
- 4- Trace un cercle centre O et de diamètre 3 cm
- 5- Trace un triangle OBG rectangle isocèle en B tel que $OB = BG$



Ce document PDF gratuit à imprimer est issu de la page :

- [Evaluations Primaire 4 Mathématiques : Géométrie Programmes de construction - PDF à imprimer](#)

Le lien ci-dessous vous permet de télécharger cette évaluation avec un énoncé vierge

- [Evaluation et bilan sur rédiger ou compléter un programme de construction : Primaire 4](#)

Découvrez d'autres évaluations en : Primaire 4 Mathématiques : Géométrie Programmes de construction

- [Evaluation et bilan sur construire une figure géométrique à partir d'un programme de construction : Primaire 4](#)

Les évaluations des catégories suivantes pourraient également vous intéresser :

- [Evaluations Primaire 4 Mathématiques : Géométrie Agrandissement, réduction - PDF à imprimer](#)
- [Evaluations Primaire 4 Mathématiques : Géométrie Cercle et disque - PDF à imprimer](#)
- [Evaluations Primaire 4 Mathématiques : Géométrie Côté, sommet, angle - PDF à imprimer](#)
- [Evaluations Primaire 4 Mathématiques : Géométrie Droites parallèles - PDF à imprimer](#)
- [Evaluations Primaire 4 Mathématiques : Géométrie Droites perpendiculaires - PDF à imprimer](#)

Besoin d'approfondir en : Primaire 4 Mathématiques : Géométrie Programmes de construction

- [Evaluations / QCM QUIZ Primaire 4 Mathématiques : Géométrie Programmes de construction](#)
- [Vidéos pédagogiques Primaire 4 Mathématiques : Géométrie Programmes de construction](#)
- [Vidéos interactives Primaire 4 Mathématiques : Géométrie Programmes de construction](#)