



SCIENCES & TECHNOLOGIE




Panorama du vivant :
Classification du monde vivant.

ÉVALUATION

CORRECTION

RESTITUTION DES CONNAISSANCES

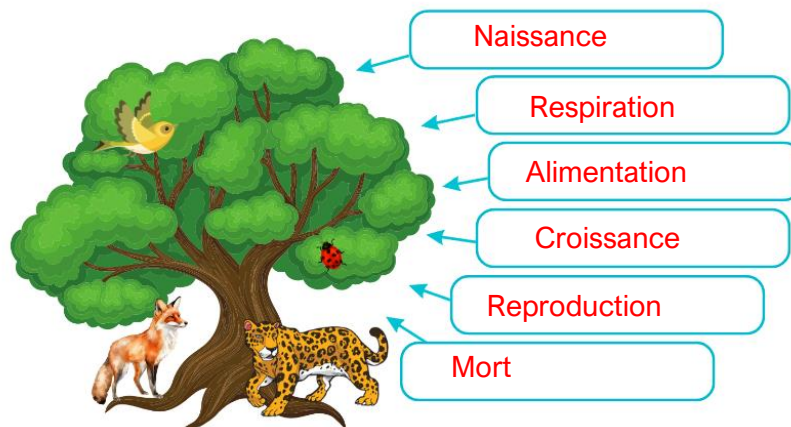
1. Coche les images qui représentent des êtres vivants.



2. Complète la définition de ce terme :

Un être vivant est un organisme doté de vie.

3. Ecris dans les cases le nom des 6 caractéristiques des êtres vivants.



4. Relie chaque groupe de mots à sa définition :

Caractères observables

Lien de parenté

Classification par groupes emboîtés

Ensemble des caractères partagés qui traduit l'existence d'ancêtres communs.

Méthode qui consiste à regrouper les êtres vivants dans des boîtes selon leurs attributs communs.

Caractéristiques physiques que l'on peut voir sur un être vivant.


ÉTUDE DE DOCUMENTS

a) Étape 1 : A l'aide du document 1, remplis le tableau de caractères communs :

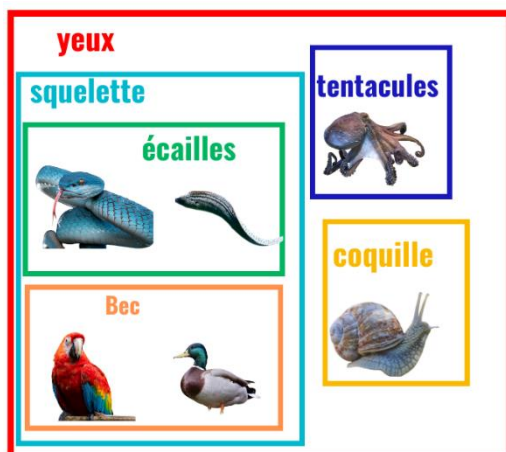
	pieuvre	escargot	vipère	anguille	perroquet	canard
yeux	OUI	OUI	OUI	OUI	OUI	OUI
tentacules	OUI	NON	NON	NON	NON	NON
squelette	NON	NON	OUI	OUI	OUI	OUI
coquille	NON	OUI	NON	NON	NON	NON
écailles	NON	NON	OUI	OUI	NON	NON
bec	NON	NON	NON	NON	OUI	OUI

b) A l'aide des documents 2 et 3, réalise la classification avec des groupes emboîtés :

- Étape 2 et 3 :



- Étape 4:



c) En observant ta classification, réponds aux questions suivantes :

- Quel animal a un ancêtre commun avec la vipère ? **L'anguille.**
- Quel animal a un lien de parenté avec le canard ? **Le perroquet.**

Ce document PDF gratuit à imprimer est issu de la page :

- [Evaluations Primaire 5 Sciences - PDF à imprimer](#)

Le lien ci-dessous vous permet de télécharger cette évaluation avec un énoncé vierge

- [Classification du monde vivant - Examen Evaluation - Edith Epreuve : Primaire 5](#)

Découvrez d'autres évaluations en : Primaire 5 Sciences

- [La digestion et les apports nutritifs au corps humain - Examen Evaluation - Edith Epreuve : Primaire 5](#)
- [Épuration de l'eau - Examen Evaluation - Edith Epreuve : Primaire 5](#)
- [Exploitation humaine des ressources terrestres - Examen Evaluation - Edith Epreuve : Primaire 5](#)
- [Description du fonctionnement et de la constitution d'objets techniques - Examen Evaluation - Edith Epreuve : Primaire 5](#)
- [Activité terrestre et risques naturels - Examen Evaluation - Edith Epreuve : Primaire 5](#)

Les évaluations des catégories suivantes pourraient également vous intéresser :

- [Evaluations Primaire 5 Sciences : Matériaux et objets - PDF à imprimer](#)
- [Evaluations Primaire 5 Sciences : Matière et énergie - PDF à imprimer](#)
- [Evaluations Primaire 5 Sciences : Monde du vivant - PDF à imprimer](#)
- [Evaluations Primaire 5 Sciences : Terre / êtres vivants - PDF à imprimer](#)

Besoin d'approfondir en : Primaire 5 Sciences

- [Leçons Primaire 5 Sciences](#)
- [Exercices Primaire 5 Sciences](#)
- [Vidéos pédagogiques Primaire 5 Sciences](#)
- [Séquence / Fiche de prep Primaire 5 Sciences](#)
- [Fiche Question / Réponse Primaire 5 Sciences](#)