

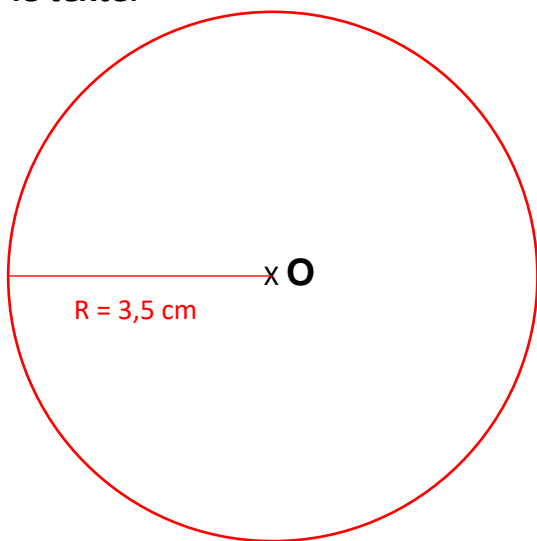


# Géométrie : Tracer des cercles

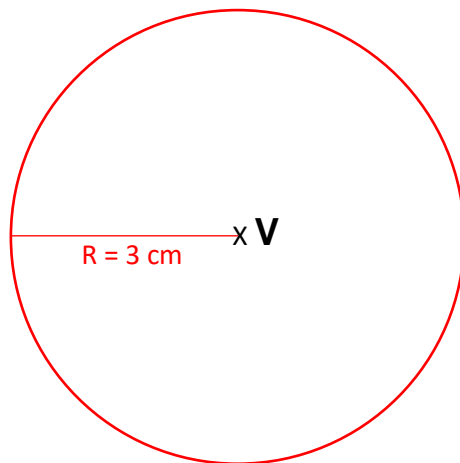
## Exercices

### Correction

- 1 Trace un cercle de centre O et de rayon 3,5 cm. Fais attention à bien placer ton centre pour que ta figure ne dépasse pas sur le texte.



Trace le cercle de centre V et de diamètre 6 cm.

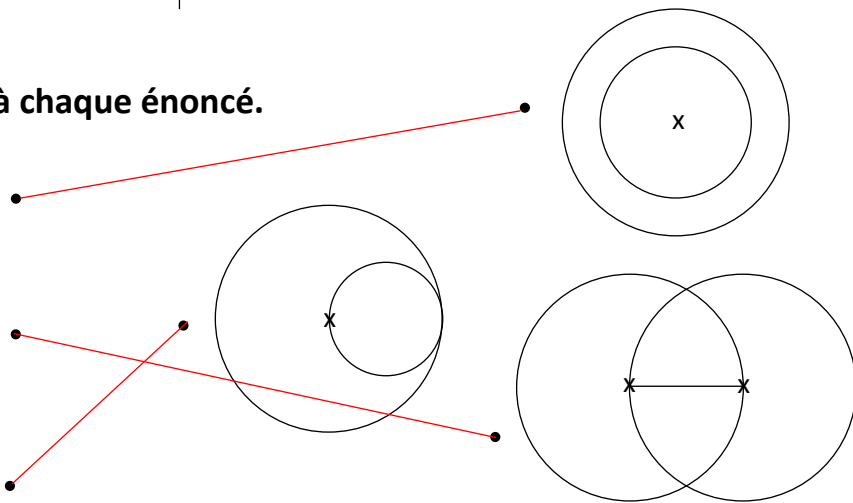


- 2 Trouve la figure qui correspond à chaque énoncé.

Trace 2 cercles de même centre

Trace 2 cercles qui partagent le même rayon

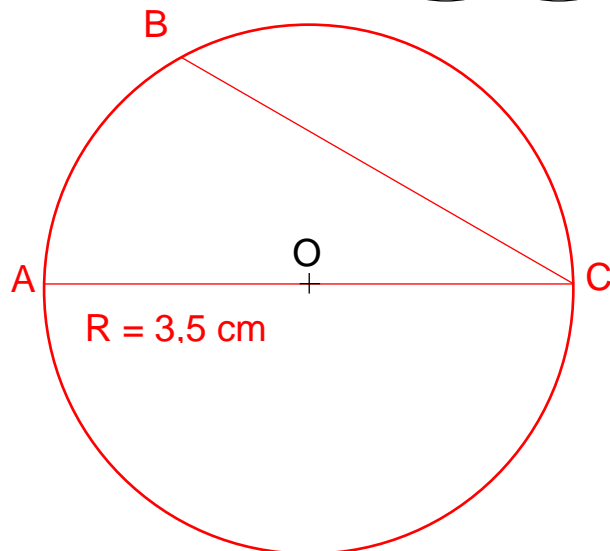
Trace 2 cercles dont le diamètre de l'un est égal au rayon de l'autre



- 3 Suis le programme de construction suivant :

Trace un cercle de centre O et de diamètre [AC] mesurant 7 cm.

Trace la corde [BC] de longueur 6 cm.



Ce document PDF gratuit à imprimer est issu de la page :

- [Exercices Primaire 4 Mathématiques : Géométrie Cercle et disque - PDF à imprimer](#)

Le lien ci-dessous vous permet de télécharger cet exercice avec un énoncé vierge

- [Tracer des cercles - Exercices de géométrie : Primaire 4](#)

Découvrez d'autres exercices en : **Primaire 4 Mathématiques : Géométrie Cercle et disque**

4

- [Identifier et connaître le vocabulaire relatif aux cercles et disques - Exercices de géométrie : Primaire 4](#)
- [Tracer des cercles - Exercices, révisions : Primaire 4](#)
- [Vocabulaire relatif aux cercles - Exercices, révisions : Primaire 4](#)
- [Tracer des cercles - Exercices avec correction : Primaire 4](#)
- [Reconnaître le vocabulaire relatif au cercle - Exercices avec correction : Primaire 4](#)

Les exercices des catégories suivantes pourraient également vous intéresser :

- [Exercices Primaire 4 Mathématiques : Géométrie Agrandissement, réduction - PDF à imprimer](#)
- [Exercices Primaire 4 Mathématiques : Géométrie Côté, sommet, angle - PDF à imprimer](#)
- [Exercices Primaire 4 Mathématiques : Géométrie Droites parallèles - PDF à imprimer](#)
- [Exercices Primaire 4 Mathématiques : Géométrie Droites perpendiculaires - PDF à imprimer](#)
- [Exercices Primaire 4 Mathématiques : Géométrie Point, droite et segment - PDF à imprimer](#)

Besoin d'approfondir en : **Primaire 4 Mathématiques : Géométrie Cercle et disque**

- [Leçons Primaire 4 Mathématiques : Géométrie Cercle et disque](#)
- [Evaluations Primaire 4 Mathématiques : Géométrie Cercle et disque](#)
- [Evaluations / compétences Primaire 4 Mathématiques : Géométrie Cercle et disque](#)
- [Vidéos pédagogiques Primaire 4 Mathématiques : Géométrie Cercle et disque](#)
- [Vidéos interactives Primaire 4 Mathématiques : Géométrie Cercle et disque](#)