



Nombres et calcul - Exercices


Comparer des nombres < 20

Correction

① Ecris le nombre de billes et entoure la plus petite collection de billes à chaque fois.



5




7



6




4



4



3



6



7

② Note le nombre de billes en-dessous de chaque pot et entoure le pot qui correspond à la plus grande collection de billes.



7



8

Complète avec ces nombres :

8

> (est plus grand que)

7

③ Complète avec $<$ (plus petit que) ou $>$ (plus grand que).

$2 < 8$	$17 > 4$	$3 > 1$	$5 < 15$
$11 > 6$	$3 < 10$	$6 > 2$	$0 < 8$

Ce document PDF gratuit à imprimer est issu de la page :

- [Exercices Primaire 1 Mathématiques : Numération Nombres entiers](#)

Le lien ci-dessous vous permet de télécharger cet exercice avec un énoncé vierge

- [Comparer des nombres inférieurs à 20 - Exercices corrigés : Primaire 1](#)

Les exercices des catégories suivantes pourraient également vous intéresser :

- [Exercices Primaire 1 Mathématiques : Numération Nombres entiers](#)
- [Exercices Primaire 1 Mathématiques : Numération Nombres entiers](#)

Besoin d'approfondir en : Primaire 1 Mathématiques : Numération Nombres entiers < 100 Comparer / rang

- [Leçons Primaire 1 Mathématiques : Numération Nombres entiers](#)
- [Séquence / Fiche de prep Primaire 1 Mathématiques : Numération Nombres entiers](#)