



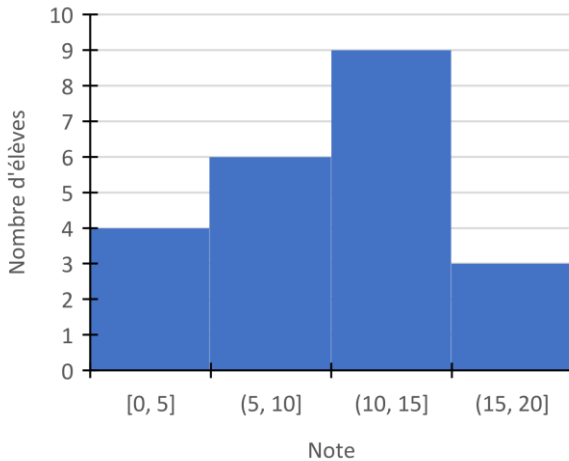
# OGD : Lire et construire des diagrammes

## Exercices

### Correction

#### 1 Réponds aux questions sur ce diagramme.

Notes au dernier contrôle de maths



a) Combien d'élèves ont eu des notes entre 15 et 20 ?

Il y en a 3.

b) Quelles notes a obtenu le groupe de 4 élèves ?

Ils ont eu des notes entre 0 et 5.

c) Combien y a-t-il d'élèves en tout dans la classe ?

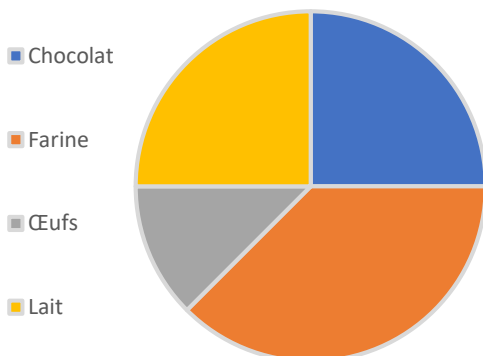
$4 + 6 + 9 + 3 = 22$ . Il y a 22 élèves au total.

d) Quelles sont les notes qui ont été obtenues le plus ?

Les notes entre 10 et 15 sont les plus fréquentes.

#### 2 Complète le diagramme avec les données.

Part des ingrédients

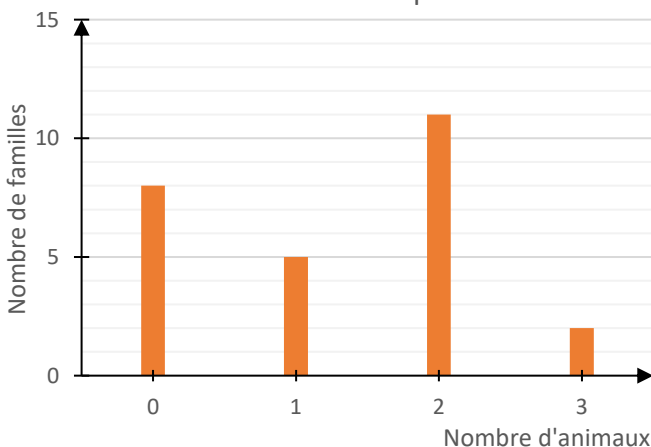


Dans une recette, il faut  $\frac{1}{4}$  de chocolat fondu que l'on mélangera avec  $\frac{1}{8}$  d'œufs. Puis on ajoute  $\frac{3}{8}$  de farine et enfin  $\frac{1}{4}$  de lait.

#### 3 À toi de construire et de remplir un diagramme en bâtons avec les informations.

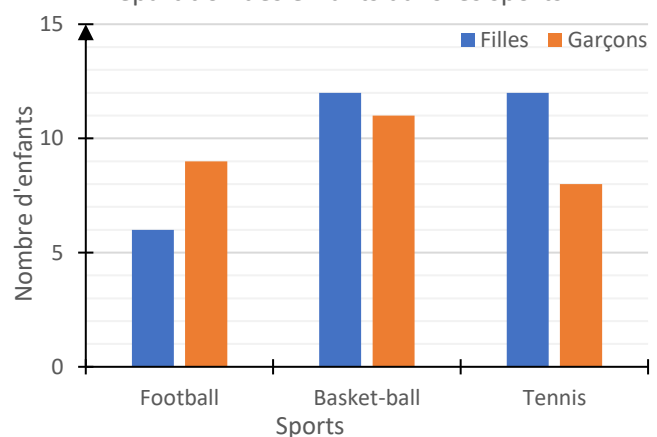
Nombres d'animaux	0	1	2	3
Nombres de familles	8	5	11	2

Nombres d'animaux par famille



Dans le village, il y a 6 filles et 9 garçons qui jouent au football, 11 garçons et 12 filles qui font du basket-ball, et 8 garçons et 12 filles qui pratiquent le tennis.

Répartition des enfants dans les sports



**Ce document PDF gratuit à imprimer est issu de la page :**

- [Exercices Primaire 5 Mathématiques : Gestion des données - PDF à imprimer](#)

**Le lien ci-dessous vous permet de télécharger cet exercice avec un énoncé vierge**

- [Lire et construire des diagrammes - Exercices sur l'organisation et gestion des données : Primaire 5](#)

**Découvrez d'autres exercices en : Primaire 5 Mathématiques : Gestion des données**

- [Lire et construire des graphiques - Exercices sur l'organisation et gestion des données : Primaire 5](#)
- [Lire et construire un graphique - Exercices sur l'organisation et gestion des données : Primaire 5](#)
- [Lire et construire un tableau - Exercices sur l'organisation et gestion des données : Primaire 5](#)
- [Échelles et vitesse - Exercices de calcul : Primaire 5](#)
- [Les pourcentages - Exercices de calcul : Primaire 5](#)

**Les exercices des catégories suivantes pourraient également vous intéresser :**

- [Exercices Primaire 5 Mathématiques : Gestion des données Données et graphiques - PDF à imprimer](#)
- [Exercices Primaire 5 Mathématiques : Gestion des données Proportionnalité - PDF à imprimer](#)
- [Exercices Primaire 5 Mathématiques : Gestion des données Tableaux - PDF à imprimer](#)

**Besoin d'approfondir en : Primaire 5 Mathématiques : Gestion des données**

- [Leçons Primaire 5 Mathématiques : Gestion des données](#)
- [Evaluations Primaire 5 Mathématiques : Gestion des données](#)
- [Evaluations / QCM QUIZ Primaire 5 Mathématiques : Gestion des données](#)
- [Vidéos pédagogiques Primaire 5 Mathématiques : Gestion des données](#)
- [Vidéos interactives Primaire 5 Mathématiques : Gestion des données](#)