



# Géométrie : Repérer et tracer des droites, des segments et des points alignés

## Exercices

Correction

### 1 Coche vrai ou faux.

Une droite est formée uniquement de deux points. ....

|   |   |
|---|---|
| V | F |
|---|---|

Une droite ne peut pas être mesurée. ....

|   |   |
|---|---|
| V | F |
|---|---|

Une droite se note entre parenthèses. ....

|   |   |
|---|---|
| V | F |
|---|---|


Un segment a deux extrémités. ....

|   |   |
|---|---|
| V | F |
|---|---|


3 points sont toujours alignés. ....

|   |   |
|---|---|
| V | F |
|---|---|


### 2 Donne le nom des figures ci-dessous :



Droite (d)

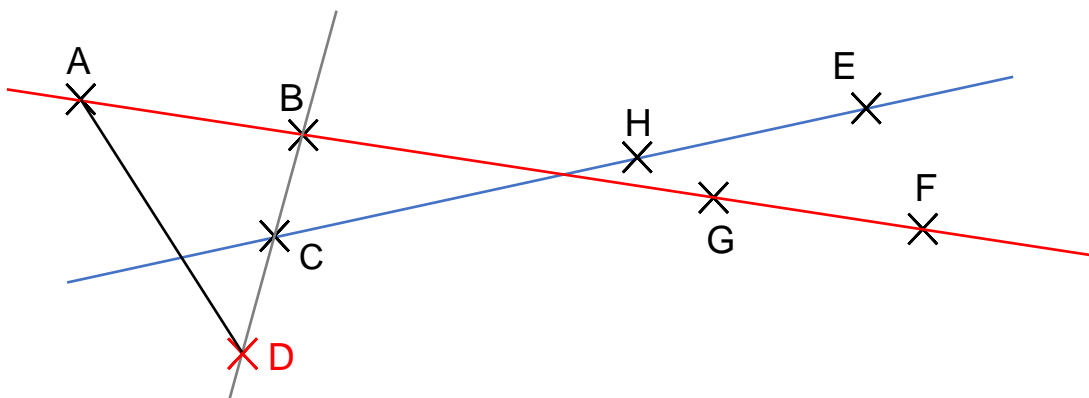


Segment [EF]

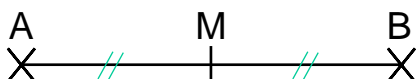


Droite (MN) ou droite (NO) ou (MO)

3 Trace en rouge une droite sur laquelle 4 points sont alignés et en bleu une droite sur laquelle 3 points sont alignés. Ajoute le point D tel que B, C et D soient alignés puis trace en noir le segment [AD].



### 4 Observe la figure ci-dessous. Que peut-on dire du point M ?



Le point M est le milieu du segment [AB] car  $AM = MB$ .

**Ce document PDF gratuit à imprimer est issu de la page :**

- [Exercices Primaire 2 Mathématiques : Géométrie Point, droite et segment - PDF à imprimer](#)

**Le lien ci-dessous vous permet de télécharger cet exercice avec un énoncé vierge**

- [Repérer et tracer des droites, des segments et des points alignés - Exercices : Primaire 2](#)

**Découvrez d'autres exercices en : Primaire 2 Mathématiques : Géométrie Point, droite et segment**

- [Repérer et tracer des droites, des segments et des points alignés - Exercices, révisions : Primaire 2](#)
- [Repérer et tracer des droites, des segments et des points alignés - Exercices avec les corrigés : Primaire 2](#)
- [Segments - Droites - Exercices avec correction : Primaire 2](#)
- [Droites et segments - Exercices corrigés : Primaire 2](#)
- [Je mesure un segment - Exercices avec correction : Primaire 2](#)

**Les exercices des catégories suivantes pourraient également vous intéresser :**

- [Exercices Primaire 2 Mathématiques : Géométrie Cercle et disque - PDF à imprimer](#)
- [Exercices Primaire 2 Mathématiques : Géométrie Côté, sommet, angle - PDF à imprimer](#)
- [Exercices Primaire 2 Mathématiques : Géométrie Polygones - PDF à imprimer](#)
- [Exercices Primaire 2 Mathématiques : Géométrie Quadrilatères - PDF à imprimer](#)
- [Exercices Primaire 2 Mathématiques : Géométrie Quadrillage / Plan - PDF à imprimer](#)

**Besoin d'approfondir en : Primaire 2 Mathématiques : Géométrie Point, droite et segment**

- [Leçons Primaire 2 Mathématiques : Géométrie Point, droite et segment](#)
- [Evaluations Primaire 2 Mathématiques : Géométrie Point, droite et segment](#)
- [Evaluations / QCM QUIZ Primaire 2 Mathématiques : Géométrie Point, droite et segment](#)
- [Vidéos pédagogiques Primaire 2 Mathématiques : Géométrie Point, droite et segment](#)
- [Séquence / Fiche de prep Primaire 2 Mathématiques : Géométrie Point, droite et segment](#)