



Grandeurs et Mesures : Points, droites et segments

Exercices

Correction

1 Barre les phrases fausses.

Une droite est formée d'une infinité de points.

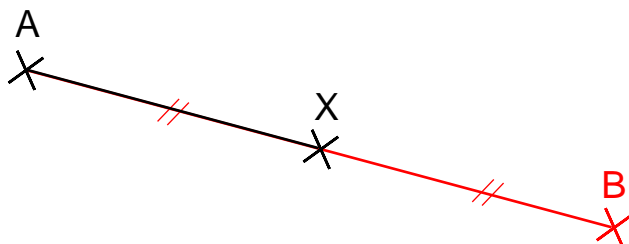
~~Une droite peut être mesurée.~~

~~Une droite se note entre crochets.~~

Un segment a deux extrémités.

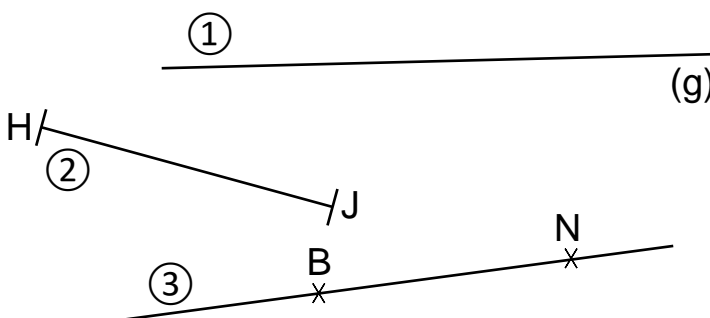
2 points suffisent pour former une droite.

2 Le point X est le milieu du segment [AB]. Complète la figure en plaçant le point B.



3 Donne le nom des figures ci-dessous en complétant le tableau.

①	La droite (g)
②	Le segment [HJ]
③	La droite (BN)



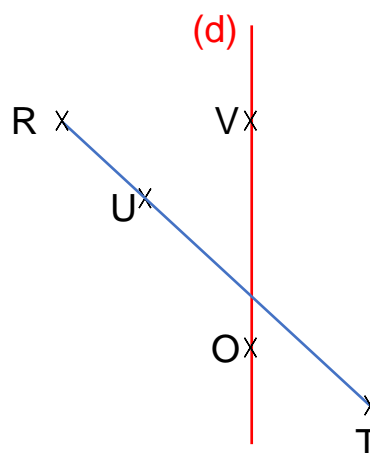
4 Trace en bleu le segment qui a pour extrémité R et T. Trace en rouge la droite (d) qui passe par les points V et O. Puis réponds aux questions.

Quel point est aligné avec les points R et T ?

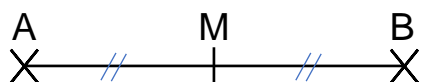
C'est le point U.

Justifie ta réponse :

U est aligné avec R et T car ils appartiennent tous les trois à la droite (RT).



5 Observe la figure ci-dessous et complète le texte.



Le point M est le milieu du segment [AB] car $AM = MB$.

Ce document PDF gratuit à imprimer est issu de la page :

- [Exercices Primaire 3 Mathématiques : Géométrie Point, droite et segment - PDF à imprimer](#)

Le lien ci-dessous vous permet de télécharger cet exercice avec un énoncé vierge

- [Points, droites et segments - Exercices de géométrie : Primaire 3](#)

Découvrez d'autres exercices en : Primaire 3 Mathématiques : Géométrie Point, droite et segment

- [Comment distinguer et tracer une droite et un segment - Exercices avec correction : Primaire 3](#)
- [Je mesure et je compare des segments - Exercices à imprimer : Primaire 3](#)
- [Différents types de droites - Exercices corrigés - Géométrie : Primaire 3](#)
- [Milieu d'un segment - Exercices corrigés - Géométrie : Primaire 3](#)
- [Droites et segments - Exercices corrigés - Géométrie : Primaire 3](#)

Les exercices des catégories suivantes pourraient également vous intéresser :

- [Exercices Primaire 3 Mathématiques : Géométrie Cercle et disque - PDF à imprimer](#)
- [Exercices Primaire 3 Mathématiques : Géométrie Côté, sommet, angle - PDF à imprimer](#)
- [Exercices Primaire 3 Mathématiques : Géométrie Droites parallèles - PDF à imprimer](#)
- [Exercices Primaire 3 Mathématiques : Géométrie Droites perpendiculaires - PDF à imprimer](#)
- [Exercices Primaire 3 Mathématiques : Géométrie Polygones - PDF à imprimer](#)

Besoin d'approfondir en : Primaire 3 Mathématiques : Géométrie Point, droite et segment

- [Leçons Primaire 3 Mathématiques : Géométrie Point, droite et segment](#)
- [Evaluations Primaire 3 Mathématiques : Géométrie Point, droite et segment](#)
- [Vidéos pédagogiques Primaire 3 Mathématiques : Géométrie Point, droite et segment](#)
- [Vidéos interactives Primaire 3 Mathématiques : Géométrie Point, droite et segment](#)
- [Fiche Question / Réponse Primaire 3 Mathématiques : Géométrie Point, droite et segment](#)