

Symétrie reconnaître des axes et des centres de symétrie dans des figures

Correction

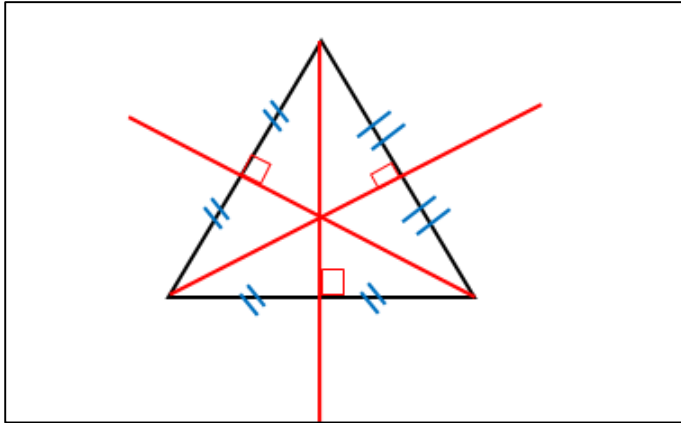
Exercice 1 :

Sur chaque figure tracer les axes et centre de symétrie s'ils existent.

1. Un triangle équilatéral

Trois axes de symétrie.

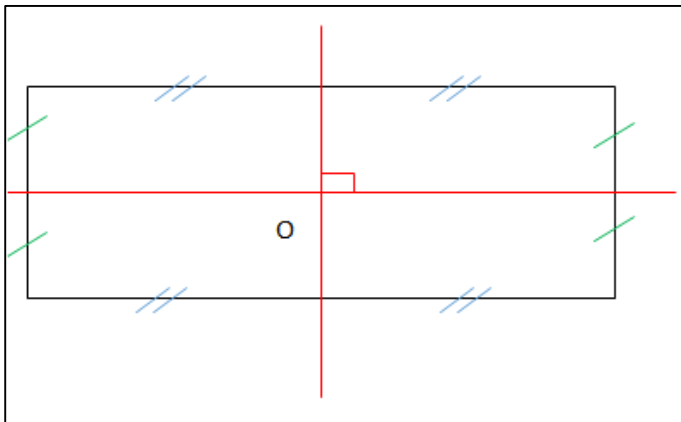
Pas de centre de symétrie



2. Un rectangle :

Deux axes de symétrie

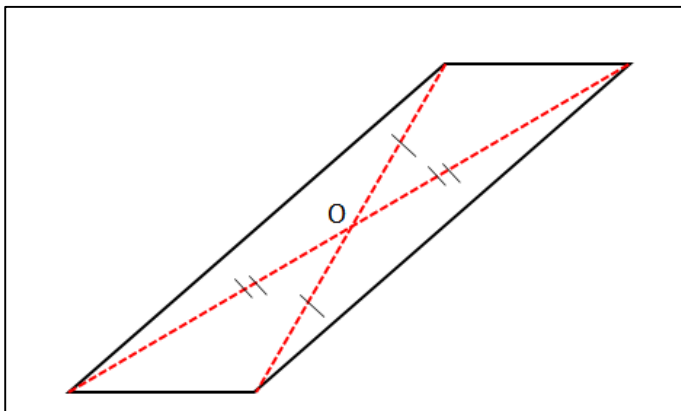
Un centre de symétrie.



3. Un parallélogramme :

Un centre de symétrie

Pas d'axe de symétrie

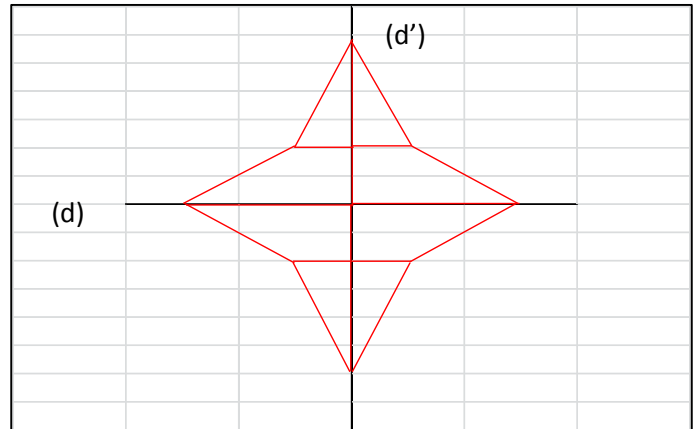


Exercice 2 :

La figure possède deux axes de symétrie (d) et (d')

Seule une partie de la figure a été dessinée.

Compléter le dessin



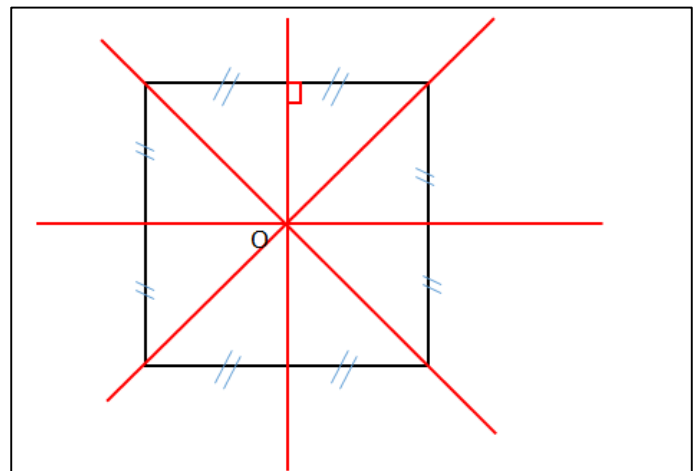
Exercice 3 :

Sur chaque figure tracer les axes et centre de symétrie s'ils existent.

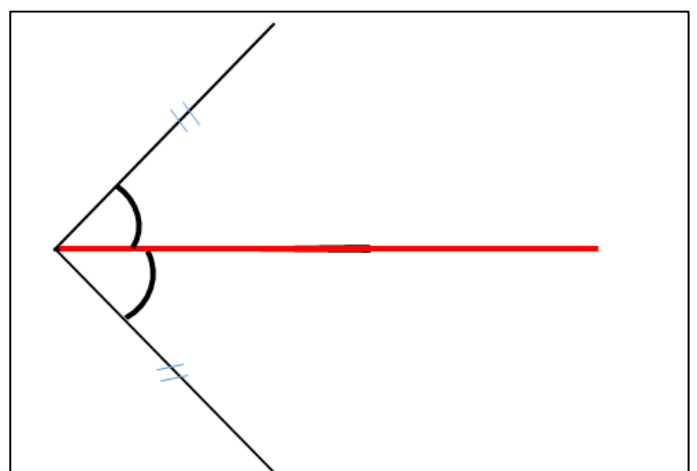
1. Un carré :

Quatre axes de symétrie.

Un centre de symétrie.



2. Un angle : un axe de symétrie (la bissectrice)



Ce document PDF gratuit à imprimer est issu de la page :

- [Exercices Secondaire 1 Mathématiques : Géométrie Symétrie axiale - PDF à imprimer](#)

Le lien ci-dessous vous permet de télécharger cet exercice avec un énoncé vierge

- [Reconnaitre des axes et des centres de symétrie dans des figures - Exercices : Secondaire 1](#)

Découvrez d'autres exercices en : **Secondaire 1 Mathématiques : Géométrie Symétrie axiale**

- [Centrale et axiale - Exercices à imprimer sur la symétrie : Secondaire 1](#)
- [Symétrie centrale - Symétrie axiale - Exercices corrigés : Secondaire 1](#)
- [Symétrie centrale et axiale - Exercices corrigés - Construire : Secondaire 1](#)
- [Symétrie centrale - Cours - Exercices - Géométrie - Mathématiques : Secondaire 1](#)
- [Symétrie centrale - Exercices corrigés - Mathématiques - Soutien scolaire : Secondaire 1](#)

Les exercices des catégories suivantes pourraient également vous intéresser :

- [Exercices Secondaire 1 Mathématiques : Géométrie Aires et périmètres - PDF à imprimer](#)
- [Exercices Secondaire 1 Mathématiques : Géométrie Côté, sommet, angle - PDF à imprimer](#)
- [Exercices Secondaire 1 Mathématiques : Géométrie L'espace - PDF à imprimer](#)
- [Exercices Secondaire 1 Mathématiques : Géométrie La symétrie centrale - PDF à imprimer](#)
- [Exercices Secondaire 1 Mathématiques : Géométrie Les angles - PDF à imprimer](#)

Besoin d'approfondir en : **Secondaire 1 Mathématiques : Géométrie Symétrie axiale**

- [Cours Secondaire 1 Mathématiques : Géométrie Symétrie axiale](#)
- [Cartes mentales Secondaire 1 Mathématiques : Géométrie Symétrie axiale](#)