






# Evaluation géométrie : Utiliser des outils de tracés






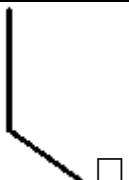
CE2

Compétences évaluées	A	EA	NA	Correction
Reconnaître les outils de tracés et leur fonction				
Reconnaître un angle droit				
Reconnaître l'alignement de points				

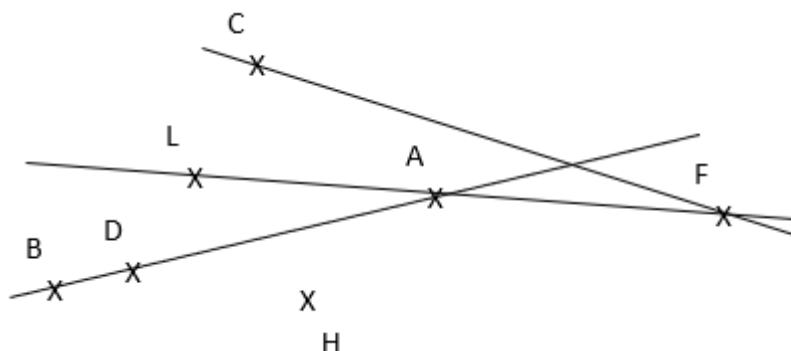
## 1 Quel est le nom de chacun des instruments de mesure ? Quelle est son utilisation ?

		
<input type="checkbox"/> Une règle graduée <input type="checkbox"/> Un compas <input checked="" type="checkbox"/> Une équerre	<input checked="" type="checkbox"/> Une règle graduée <input type="checkbox"/> Un compas <input type="checkbox"/> Une équerre	<input type="checkbox"/> Une règle graduée <input checked="" type="checkbox"/> Un compas <input type="checkbox"/> Une équerre
<input type="checkbox"/> Tracer des ronds <input type="checkbox"/> Mesurer des traits <input checked="" type="checkbox"/> Vérifier un angle droit <input type="checkbox"/> Vérifier si des points sont alignés	<input type="checkbox"/> Tracer des ronds <input checked="" type="checkbox"/> Mesurer des traits <input type="checkbox"/> Vérifier un angle droit <input checked="" type="checkbox"/> Vérifier si des points sont alignés	<input checked="" type="checkbox"/> Tracer des cercles <input type="checkbox"/> Mesurer des traits <input type="checkbox"/> Vérifier un angle droit <input type="checkbox"/> Vérifier si des points sont alignés

## 2 Coche les angles qui sont des angles droits.

## 3 Coche les affirmations qui sont correctes.



- ☒ L, A et F sont alignés.
- ☐ H est sur la droite qui passe par B et D
- ☐ C, F et L sont alignés.
- ☒ B, D et A sont alignés.
- ☒ En utilisant la règle, on pourrait voir que C, L et D sont alignés.

**Ce document PDF gratuit à imprimer est issu de la page :**

- [Evaluations QCM / QUIZ Primaire 3 Mathématiques : Géométrie - PDF à imprimer](#)

**Le lien ci-dessous vous permet de télécharger ce QCM / QUIZ avec un énoncé vierge**

- [Utiliser des outils de tracés - Examen Evaluation- Fiches QCM - Quiz à imprimer : Primaire 3](#)

**Découvrez d'autres QCM / QUIZ en : Primaire 3 Mathématiques : Géométrie**

- [Utiliser le vocabulaire des solides - Examen Evaluation- Fiches QCM - Quiz à imprimer : Primaire 3](#)
- [Identifier et nommer les solides - Examen Evaluation- Fiches QCM - Quiz à imprimer : Primaire 3](#)
- [Compléter et reproduire une figure par symétrie axiale - Examen Evaluation- Fiches QCM - Quiz à imprimer : Primaire 3](#)
- [Identifier et tracer les axes de symétrie - Examen Evaluation- Fiches QCM - Quiz à imprimer : Primaire 3](#)
- [Tracer des quadrilatères - Fiches Le rectangle et le carré - Examen Evaluation- Fiches QCM - Quiz à imprimer : Primaire 3](#)

**Les QCM / QUIZ des catégories suivantes pourraient également vous intéresser :**

- [Evaluations QCM / QUIZ Primaire 3 Mathématiques : Géométrie Cercle et disque - PDF à imprimer](#)
- [Evaluations QCM / QUIZ Primaire 3 Mathématiques : Géométrie Polygones - PDF à imprimer](#)
- [Evaluations QCM / QUIZ Primaire 3 Mathématiques : Géométrie Quadrilatères - PDF à imprimer](#)
- [Evaluations QCM / QUIZ Primaire 3 Mathématiques : Géométrie Se repérer, déplacer / plan, carte - PDF à imprimer](#)
- [Evaluations QCM / QUIZ Primaire 3 Mathématiques : Géométrie Solides et patrons - PDF à imprimer](#)

**Besoin d'approfondir en : Primaire 3 Mathématiques : Géométrie**

- [Leçons Primaire 3 Mathématiques : Géométrie](#)
- [Exercices Primaire 3 Mathématiques : Géométrie](#)
- [Evaluations Primaire 3 Mathématiques : Géométrie](#)
- [Evaluations / compétences Primaire 3 Mathématiques : Géométrie](#)
- [Vidéos pédagogiques Primaire 3 Mathématiques : Géométrie](#)